









# Schatzsuche im Museum

	<p>1. Wem gehört das drollige Kerlchen?</p> <p>_____</p> <p>In welchem Monat ist sie geboren? A = ?</p>
	<p>2. An welchem Möbelstück findest du diesen Spruch?</p> <p>_____</p> <p>Aus welchem Jahr ist das zugehörige Werbeprospekt B = ?</p>
	<p>3. Was kostete dieser Apparat C = __ M ?</p> <p>_____ -Apparat</p>
	<p>4. Wozu gehört dieses Bild?</p> <p>_____</p> <p>Aus welchem Jahr stammt der Gegenstand D = ?</p>
	<p>5. Wozu gehört dieses Manometer?</p> <p>_____ -apparat</p> <p>Auf wieviel Füßen steht er E = ?</p>
	<p>6. Wieviele dieser Ornamente sind am Schrank F = ?</p>

		<p>7. Von wann stammt dieser Siegelabdruck G = ?</p>
		<p>8. Was sind Oederaner Flöten? - Musikinstrumente H = 10 - Zigarren H = 15 oder - der Name einer Blasmusikkapelle H = 20</p>
		<p>9. Welche Jahreszahl steht unter diesem Piepmatz J = ?</p>
		<p>10. Was ist am 28. Februar 1892 in Oederan geschehen? - ein erfolgreicher Lehrabschluss K = 5 - eine Hochzeit K = 10 - eine Vereinsgründung K = 20</p>
		<p>11. Aus welchem Jahrhundert ist dieses Gebilde L = ?</p> <p>Was ist das?</p> <p>_____</p>
		<p>12. Aus welchem Jahr stammt das Objekt mit diesem Dekor M = ?</p> <p>Was ist das?</p> <p>_____</p>

Die Lösungszahl ergibt sich aus der Summe aller letzten Ziffern der ermittelten Zahlen.

$$X = \_ + \_ + \_ + \_ + \_ + \_ + \_ + \_ + \_ + \_ + \_ + \_ = \_ \_$$